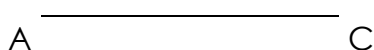


# Les triangles 3

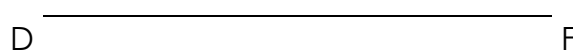
1./ A partir du côté AC, place le point B afin de tracer un triangle isocèle rectangle en A.



Calcule le périmètre du triangle ABC ?

.....

2./ Place le point E afin de former un triangle isocèle rectangle en E.



Calcule le périmètre du triangle DEF ?

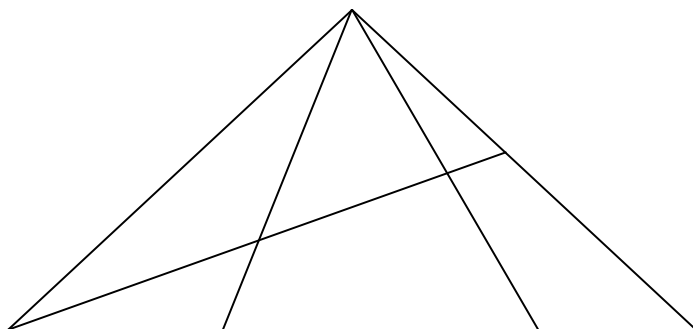
.....

3./ Trace un triangle rectangle dont les côtés perpendiculaires mesurent 8 cm et 6 cm.

Mesure la longueur du troisième côté : .....

Calcule le périmètre de ce triangle : .....

4./ Combien y a-t-il de triangles dans cette figure ?



.....