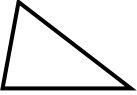
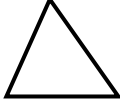

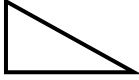


# GÉOMÉTRIE

## Les triangles 1

Les figures géométriques à 3 côtés et 3 sommets : les triangles

1./ Complète :

	: un triangle .....		: un triangle .....
	: un triangle .....		: un triangle .....

2./ Complète :

Noms de la figure	Particularités
Le triangle quelconque	.....
Le triangle isocèle	.....
Le triangle rectangle	.....
Le triangle équilatéral	.....

3./ Sur cette figure colorie en rouge 2 triangles rectangles, en vert 2 triangles quelconques, en bleu 2 triangles isocèles.

