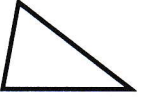

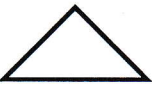
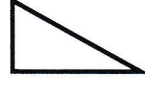


GÉOMÉTRIE

Les triangles 1

Les figures géométriques à 3 côtés et 3 sommets : les triangles

1./ Complète :

	: un triangle <i>quelconque</i>		: un triangle <i>isocèle</i>
	: un triangle <i>rectangle</i>		: un triangle <i>rectangle</i>

2./ Complète :

Noms de la figure	Particularités
Le triangle quelconque	<i>aucune</i>
Le triangle isocèle	<i>2 côtés égaux et 2 angles égaux</i>
Le triangle rectangle	<i>1 angle droit</i>
Le triangle équilatéral	<i>3 côtés égaux et 3 angles égaux</i>

3./ Sur cette figure colorie en rouge 2 triangles rectangles, en vert 2 triangles quelconques, en bleu 2 triangles isocèles.

